

گرما و بهینه سازی مصرف انرژی



دمای محیط چنان اهمیتی دارد که هرگونه حیاتی کاملاً به آن وابسته است. دو سیاره نزدیک به زمین یعنی زهره (ناهید) و مریخ (بهرام) را در نظر بگیرید. دمای زهره چنان زیاد است که اگر دمای زمین به آن مقدار برسد، حتی برخی از فلزها در آن ذوب می‌شوند و مریخ نیز آن چنان سرد است که همه چیز روی آن یخ می‌زند. جست‌وجوی حیات روی سیاره دیگر بر اساس وجود آب در حالت مایع در آن سیاره انجام می‌شود. در صورتی آب به حالت مایع وجود خواهد داشت که دمای محیط مناسب باشد.

در این فصل نخست با مفهوم دما و دماسنجی سپس با گرما، روش‌های انتقال آن و عایق بندی گرمایی آشنا می‌شوید.

دما

دمای جسم‌هایی که روزانه با آنها سر و کار داریم و محیطی که در آن زندگی می‌کنیم، معمولاً تأثیر زیادی در کار و فعالیت ما دارد؛ مثلاً در زمستان برای گرم کردن خانه، مدرسه یا محل کار، همچنین در تابستان برای خنک کردن این محیط‌ها، کارهای زیادی انجام می‌شود (شکل ۱)؛ حتی پوشش‌مان نیز بسته به فصل‌های سال تغییر می‌کند.



شکل ۱- برای گرم کردن یا سرد کردن خانه و مدرسه از وسایل مختلفی استفاده می‌شود.



گیاهان و جانوران نیز تحت تأثیر محیطی اند که در آن زندگی می‌کنند؛ به همین دلیل است که شکل گیاهان و جانوران مشابه در مناطق گرمسیری با جانوران و گیاهان مناطق سردسیری تفاوت دارد (شکل ۲).

شکل ۲- رنگ خرس قطبی با خرس‌های دیگر متفاوت است.

فعالیت

در مورد پوشش، رنگ لباس و روش گرم کردن منزل مسکونی و عایق بندی ساختمان‌ها در نواحی سردسیر و نواحی گرمسیر تحقیق کنید و به کلاس گزارش دهید (تشابه‌ها و تفاوت‌ها را مشخص کنید).

آیا می‌دانید

در ساحل دریاهای آزاد مانند خلیج فارس آب در دمای صفر درجه سلسیوس یخ می‌بندد و در دمای ۱۰۰ درجه سلسیوس می‌جوشد.

هر چه جسمی گرم‌تر باشد، دمای آن بیشتر است؛ مثلاً دمای یک فنجان چای داغ بیشتر از دمای یک فنجان آب خنک است. با استفاده از حس لامسه خود تشخیص می‌دهیم چه جسمی داغ و چه جسمی سرد است؛ اما نمی‌توانیم به طور دقیق، مقدار گرمی و سردی آن را مشخص کنیم. وقتی می‌خواهیم بینیم فردی تب دارد یا نه، معمولاً دست خود را روی پیشانی او قرار می‌دهیم و با مقایسه دمای بدن او با دمای بدنمان تشخیص می‌دهیم که شخص تب دارد یا خیر؛ حتی اگر تشخیص دهیم که بیمار تب دارد، نمی‌توانیم تشخیص دهیم او چند درجه تب دارد و برای این منظور از دماسنج استفاده می‌کنیم.

آزمایش کنید

در سه ظرف مشابه به‌طور جداگانه، آب سرد، آب معمولی و آب گرم بریزید. دست راست را در آب گرم و دست چپ را در آب سرد قرار دهید و حدود ۳۰ ثانیه صبر کنید. حال هر دو دست را بیرون آورید و در آب معمولی قرار دهید و احساس خود را بیان کنید.



شکل ۳ - وقتی دما کم باشد، ارتفاع الکل یا جیوه در لوله کم است و با افزایش دما، ارتفاع الکل زیاد می‌شود.

دماسنج: دماسنج وسیله‌ای است که با استفاده از آن دما را اندازه می‌گیریم؛ مثلاً با استفاده از دماسنج پزشکی می‌توانیم دمای بدن فرد بیمار را با دقت اندازه‌گیری کنیم (شکل ۳). دماسنج‌های جیوه‌ای و الکی رایج‌ترین دماسنج‌ها هستند. اگر این دماسنج‌ها را در محیط گرم قرار دهیم، جیوه یا الکل درون مخزن آنها منبسط می‌شود و از لوله نازک بالا می‌رود. در این حالت ارتفاع الکل رنگی یا جیوه درون لوله، دمای محیط را نشان می‌دهد (شکل ۴).

شکل ۴ - استفاده از دماسنج‌های مختلف پزشکی برای تعیین دمای بدن بیمار.



برای درجه‌بندی دماسنج‌های الکلی و جیوه‌ای، ابتدا مخزن آنها را در مخلوط آب و یخ قرار می‌دهند و سطح جیوه یا الکل را با صفر نشانه‌گذاری می‌کنند؛ سپس دماسنج را در مجاورت بخار آب در حال جوش قرار می‌دهند و سطح مایع درون دماسنج را با عدد ۱۰۰ علامت‌گذاری می‌کنند. بین این دو عدد (صفر تا ۱۰۰) را به صد قسمت مساوی تقسیم کرده‌اند و هر قسمت را یک درجه سلسیوس (1°C) می‌نامند؛ یعنی آب در دمای 0°C (صفر درجه سلسیوس) یخ می‌زند و در دمای 100°C می‌جوشد (البته در فشار یک اتمسفر که فشار هوای کنار دریاها آزاد است).

برای اندازه‌گیری دمای یک جسم با دماسنج الکلی یا جیوه‌ای، مخزن دماسنج را در تماس با جسم مورد نظر قرار می‌دهیم و مدتی صبر می‌کنیم تا ارتفاع مایع در لوله باریک دیگر تغییر نکند؛ آن‌گاه عددی را که مایع در آن ارتفاع قرار دارد؛ می‌خوانیم. این عدد همان دمای جسم است.

آیا می‌دانید

دماسنج‌های نواری با تغییر رنگ و دماسنج‌های جیوه‌ای و الکلی با تغییر حجم، دما را نشان می‌دهند.

بیشتر بدانید

لوله دماسنج معمولاً بلند و نازک انتخاب می‌شود تا یک تغییر کوچک در حجم جیوه یا الکل بتواند به تغییر ارتفاع قابل ملاحظه‌ای در لوله بینجامد.

فعالیت

به همراه گروه خود نخست به طراحی یک دماسنج بپردازید و سپس با آوردن وسایل مورد نیاز، آن دماسنج را بسازید و درجه‌بندی کنید. با استفاده از این دماسنج چند اندازه‌گیری را انجام دهید.

فعالیت

در هر یک از موارد زیر ابتدا دما را پیش‌بینی، و سپس با استفاده از یک دماسنج آن را اندازه‌گیری و جدول را کامل کنید و به کلاس گزارش دهید. توجه کنید برای اندازه‌گیری دما، دماسنج به اندازه کافی در تماس با جسم مورد نظر قرار گیرد.

ردیف	جسم مورد اندازه‌گیری	پیش‌بینی دما (درجه سلسیوس)	دمای اندازه‌گیری شده (درجه سلسیوس)
۱	آب لوله‌کشی		
۲	مخلوط آب و یخ		
۳	مخلوط نمک و یخ خردشده		
۴	چای داغ		
۵	هوای کلاس		
۶	هوای داخل یخچال		

گرما

برای آشنایی با مفهوم دمای تعادل و گرما آزمایش زیر را انجام دهید.

آزمایش کنید

وسایل و مواد: لیوان، دماسنج، میخ نسبتاً بزرگ و انبرک یا دم باریک
روش آزمایش

- ۱- لیوان را تا نیمه از آب سرد پر کنید و دمای آن را اندازه بگیرید.
- ۲- میخ را به کمک انبرک روی شعله اجاق قرار دهید و پس از داغ شدن، داخل لیوان بیندازید.
- ۳- دوباره دمای آب را اندازه بگیرید.
- ۴- نتیجه مشاهده خود را گزارش کنید.

در این آزمایش دمای آب چگونه تغییر کرده است؟ دمای میخ چطور؟ آب انرژی از دست داده است یا میخ؟ کدام یک انرژی گرفته اند؟

فکر کنید

برای دقت بیشتر باید لوله باریک دماسنج و خط نشان مایع دماسنجی را در خط افق در مقابل دیدگان قرار دهیم.

اگر درون آب به جای میخ داغ، میخ سردی که درون فریزر یا جایی قرار داشته است، بیندازیم، چه اتفاقی می افتد؟ دمای میخ و آب چگونه تغییر می کنند؟ این بار کدام یک انرژی از دست می دهد و کدام یک انرژی می گیرد؟

از این آزمایش و آزمایش‌های مشابه نتیجه می گیریم، وقتی دو جسم با دماهای متفاوت در تماس با یکدیگر قرار می گیرند، دمای جسم گرم کم، و دمای جسم سرد زیاد می شود. این فرایند آن قدر ادامه پیدا می کند تا دمای دو جسم یکسان شود. این دما را دمای تعادل دو جسم می نامیم و در این حالت می گوئیم دو جسم با یکدیگر در تعادل گرمایی اند (شکل ۵).

آیا می دانید

گرم ترین نقطه روی زمین، ناحیه ای در کویر لوت است که دمای آن تا حدود 70°C و سردترین نقطه در قطب جنوب است که دمای آن تا -89°C گزارش شده است.



شکل ۵ - مدتی پس از تماس دو جسم سرد و گرم، دو جسم هم دما می شوند و به دمای تعادل می رسند.

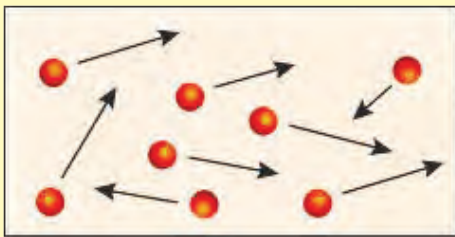
به مقدار انرژی‌ای که در اثر اختلاف دما از جسمی به جسم دیگر منتقل می‌شود، گرما می‌گویند. در آزمایش قبل در حالتی که میخ داغ را درون آب سرد می‌اندازیم، میخ انرژی از دست می‌دهد و آب انرژی می‌گیرد؛ به عبارت دیگر میخ به آب گرما می‌دهد. وقتی ظرف غذا را روی اجاق قرار می‌دهیم، چون اجاق از ظرف گرم‌تر است، انرژی به ظرف منتقل می‌شود؛ به عبارت دیگر اجاق به ظرف غذا، گرما می‌دهد؛ یعنی به‌طور طبیعی گرما همواره از جسم گرم به جسم سرد منتقل می‌شود.

همان‌طور که گفته شد، گرما نوعی انرژی است که به علت اختلاف دما بین دو جسم در تماس با هم منتقل می‌شود؛ بنابراین یکای آن ژول (J) است. از یکای ژول برای همهٔ شکل‌های انرژی استفاده می‌کنند.

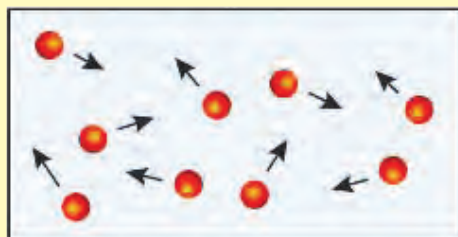
جسمی که گرم‌تر است، دمای آن بیشتر است و مولکول‌هایش جنب و جوش بیشتری دارند؛ یعنی انرژی مولکول‌ها به‌طور متوسط بیشتر از جسمی است که سردتر است. در جسم سردتر، جنب و جوش مولکول‌ها کمتر است؛ یعنی به‌طور متوسط مولکول‌ها انرژی کمتری دارند (شکل ۵). وقتی ظرف آبی را روی شعله قرار می‌دهیم، انرژی داده شده به آب، سبب افزایش انرژی مولکول‌های آب می‌شود و جنبش مولکول‌ها افزایش می‌یابد و در نتیجه دمای آب هم بیشتر می‌شود.



دو محفظهٔ A و B که در آنها مولکول‌های یکسانی قرار دارند را در نظر بگیرید، محفظهٔ A داغ و محفظهٔ B سرد است. الف) جنبش مولکولی A و B را با هم مقایسه کنید. ب) اگر دو محفظه را در تماس با یکدیگر قرار دهیم، جنبش مولکولی کدام محفظه کم و کدام محفظه زیاد می‌شود؟ پ) پس از رسیدن به حالت تعادل، جنبش مولکولی دو محفظه را با هم مقایسه کنید.



محفظة A



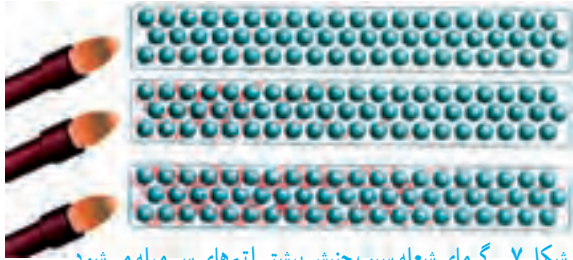
محفظة B

انتقال گرما

همان‌طور که دیدیم، گرما شکلی از انرژی است؛ بنابراین مانند هر انرژی دیگری می‌تواند منتقل شود و در انتقال آن نیز همواره قانون پایستگی انرژی برقرار است. گرما به روش‌های مختلفی از جسمی به جسم دیگر منتقل می‌شود که در اینجا به آنها می‌پردازیم.



شکل ۶- گرما از سر داغ به سر دیگر منتقل می‌شود.



شکل ۷- گرمای شعله سبب جنبش بیشتر اتم‌های سر میله می‌شود.

رسانش: هرگاه یک سر میله فلزی را روی شعله قرار دهید، طولی نمی‌کشد که سر دیگر آن، که در دست شماست، آن قدر داغ می‌شود که دیگر نمی‌توانید آن را نگه دارید. گرما از سری که روی شعله قرار دارد، وارد می‌شود و آن را داغ می‌کند. با توجه به اختلاف دمای دو سر میله، گرما از سر داغ به سمت دیگر میله منتقل می‌شود (شکل ۶). این نوع انتقال گرما را رسانش گرمایی می‌نامیم. در رسانش گرمایی، گرمای شعله سبب می‌شود که جنبش اتم‌های سر گرم شده میله، بیشتر شود و در اثر برخورد با اتم‌های مجاور، انرژی به آنها منتقل کند و در نتیجه سبب افزایش جنبش اتم‌های مجاور شود؛ بدین ترتیب اتم‌ها بدون رفتن از جایی به جای دیگر انرژی خود را منتقل می‌کنند (شکل ۷).

آزمایش کنید

وسایل و مواد: سه میله هم طول و هم ضخامت از جنس مس، فولاد یا آهن و شیشه، شمع، کبریت، سه پایه و پارافین.

روش آزمایش

- ۱- به کمک پارافین به سر میله‌ها، چوب کبریت بچسبانید.
- ۲- مطابق شکل سر دیگر میله‌ها را روی شعله قرار دهید.
- ۳- مدتی صبر کنید تا چوب کبریت‌ها بیفتند.

۴- نتیجه مشاهدات خود را بنویسید و درباره آن گفت‌وگو کنید.

در این آزمایش کدام میله سریع‌تر از بقیه گرما را منتقل می‌کند؟ کدام میله گرما را بسیار کند منتقل می‌کند؟

آیا می‌دانید

وجود هوا در لایه لای پشم و پر سبب کاهش میزان رسانایی گرمایی می‌شود.



به اجسامی مانند شیشه، چوب، لاستیک، هوا، پشم، چوب پنبه و... که گرما را بسیار آهسته منتقل می‌کنند، نارسا یا عایق گرما گویند و به اجسامی مانند انواع فلزها که گرما را بسیار سریع منتقل می‌کنند، رسانای گرمایی گویند.

آزمایش نشان می‌دهد برخی از فلزها نسبت به فلزهای دیگر رسانای بهتری برای گرما هستند. پشم شیشه و فایبرگلاس به علت داشتن هوای محبوس نارسا خوب به شمار می‌روند.

با استفاده از وسایل در دسترس، یک لیوان عایق دردار طراحی کنید و بسازید؛ سپس مقداری آب داغ در آن بریزید و دمای آب را اندازه بگیرید. پس از یک ساعت دوباره دمای آب را اندازه بگیرید. ظرف کدام گروه گرمای کمتری را منتقل کرده است؟ کدام ظرف گرمای بیشتری را منتقل کرده است؟

همرفت: آیا تاکنون آب در حال جوش را در یک ظرف مشاهده کردید؟ حباب‌ها در ته ظرف تشکیل می‌شوند و به سمت بالا حرکت می‌کنند. با حرکت آب داغ از ته ظرف به سمت بالا، آب سرد بالای ظرف به سمت پایین حرکت می‌کند. در واقع آب با جابه‌جا شدن، گرما را منتقل می‌کند (شکل ۸). به این روش انتقال گرما، همرفت می‌گویند. در انتقال گرما به روش همرفت قسمتی از مایع یا گاز که گرم شده است به طرف بالا حرکت می‌کند و قسمت‌های اطراف آن، که سردترند، جای آن را می‌گیرند.



شکل ۸- آب گرم شده به سمت بالا حرکت می‌کند و آب سرد جای آن را می‌گیرد.

آزمایش کنید

وسایل و مواد: یک ظرف شیشه‌ای نشکن، منبع گرما (شمع یا چراغ گاز یا چراغ الکلی)، قطره‌چکان، جوهر روشن آزمایش



- ۱- تا سه چهارم ظرف شیشه‌ای را با آب پر کنید و آن را مطابق شکل روی شعله قرار دهید.
 - ۲- با قطره چکان، چند قطره جوهر در یک طرف ظرف بریزید.
 - ۳- به مسیر حرکت جوهر توجه، و مشاهدات خود را به‌طور دقیق یادداشت کنید.
 - ۴- در گروه خود درباره علت رفتار مشاهده شده، بحث کنید.
- وقتی آب را از پایین گرم می‌کنیم، مولکول‌های آن تندتر حرکت می‌کنند و بیشتر از هم دور می‌شوند؛ یعنی آب منبسط می‌شود. در نتیجه چگالی آن کم می‌شود و به طرف بالا رانده می‌شود. در این هنگام آب خنک‌تر، جای آبی را می‌گیرد که گرم شده و به طرف بالا رفته است. با تکرار این فرایند، همه آب گرم می‌شود.

دو بشر هم اندازه انتخاب کنید. یکی را از آب و دیگری را از ماسه پر کنید و آن را در آفتاب قرار دهید. هر ۳۰ دقیقه یک‌بار دمای آنها را اندازه‌گیری و یادداشت کنید و سپس نمودار دما برحسب زمان آنها را رسم کنید، از این آزمایش چه نتیجه‌ای می‌گیرید؟




شکل ۹ - جریان‌های همرفتی سبب ایجاد باد در ساحل دریا می‌شود.

جریان‌های همرفتی می‌توانند هوا را نیز به حرکت در آورند و باد تولید کنند؛ مثلاً در طول روز، ساحل دریا (خشکی) زودتر از آب دریا گرم می‌شود و دمای آن از دمای آب بالاتر می‌رود. در نتیجه هوای خنک بالای آب به طرف ساحل می‌آید و هوای گرم روی ساحل به طرف بالا می‌رود. حاصل این فرایند نسیم دریاست (شکل ۹).

فکر کنید

اگر در ساحل، آتش روشن کنید، متوجه می‌شوید در طول روز، دود به طرف خشکی و در طول شب به طرف دریا کشیده می‌شود. علت را توضیح دهید.



خود را بیازمایید

شکل مقابل نحوه گرم شدن اتاق را به وسیله یک رادیاتور نشان می‌دهد. توضیح دهید چگونه قسمت‌هایی از اتاق که با رادیاتور فاصله دارند، گرم می‌شوند.

تابش: بیشتر انرژی گرمایی روی زمین از خورشید است. این انرژی سطح زمین را گرم می‌کند و انرژی مورد نیاز گیاهان، جانوران و... را تأمین می‌کند. آیا می‌دانید این انرژی چگونه به زمین می‌رسد؟ آیا این انرژی با فرایند رسانش به زمین می‌رسد؟ آیا ممکن است این انرژی به صورت همرفت به زمین رسیده باشد؟ همان طور که دیدیم برای انتقال گرما به روش همرفت و رسانش به محیط مادی نیاز است؛ ولی انرژی گرمایی خورشید از خلأ عبور می‌کند و به ما می‌رسد و ما را گرم می‌کند. این نوع انتقال انرژی، تابش گرمایی نامیده می‌شود.

فعالیت



با همکاری معلم یا والدین خود یک اتوی برقی را روشن، و مدتی صبر کنید تا سطح اتو کاملاً داغ شود. پشت دست خود را مطابق شکل در فاصله چند سانتی‌متری زیر اتو قرار دهید. آیا گرمای اتو را در پشت دست خود احساس می‌کنید؟ آیا ممکن است گرما از طریق رسانش یا همرفت به پشت دست شما رسیده باشد؟ توضیح دهید.

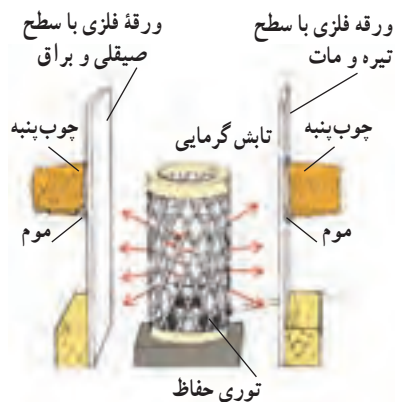
همه اجسام می‌توانند انرژی خود را به صورت تابش منتشر کنند؛ اما اجسام گرم‌تر، مقدار بیشتری انرژی تابشی منتشر می‌کنند؛ مثلاً سطح خورشید که دمای بالایی دارد، انرژی تابشی زیادی گسیل می‌کند.

وقتی در یک روز آفتابی در حال پیاده روی هستید، پرتوهای خورشید به شما برخورد می‌کنند. قسمتی از پرتوها جذب بدن شما می‌شوند و شما را گرم‌تر می‌کنند و قسمتی از پرتوها، بازتابش می‌کنند.

در یک آزمایش، بخاری برقی استوانه‌ای بین دو ورقه فلزی قرار داده شده است. سطح‌هایی از ورقه‌ها که مقابل بخاری قرار دارند، یکی صیقلی و براق و دیگری سیاه و مات است. در طرف دیگر، ورقه‌های چوب پنبه‌ای توسط موم یا پارافین چسبانده شده است.

وقتی بخاری برقی را روشن می‌کنیم، خواهیم دید که چوب پنبه پشت سطح سیاه، زودتر می‌افتد (شکل ۱۰). با انجام این آزمایش و آزمایش‌های مشابه می‌توان نتیجه گرفت که:

اجسام تیره و ناهموار، انرژی تابشی بیشتری را جذب می‌کنند و سطوح صاف و براق مقدار کمتری از انرژی تابشی را جذب، و بیشتر آن را بازتابش می‌کنند.

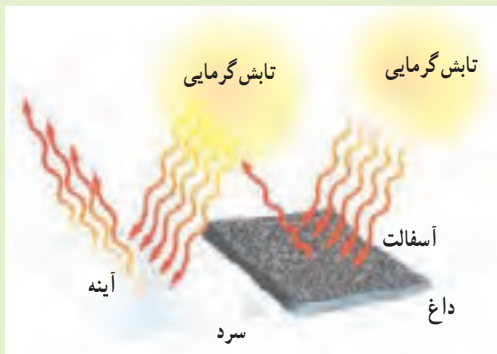


شکل ۱۰ - جذب تابش گرمایی

فکر کنید

کدام مورد بیشتر تابش گرمایی خورشید را جذب می‌کند؟ چرا؟

الف) آسفالت ب) آینه



آزمایش کنید

وسایل و مواد: دو قوری یا لیوان کاملاً یکسان که رنگ یکی تیره و دیگری سفید باشد، دو دماسنج و یک فلاسک (دمابان) آب داغ.

روش آزمایش

- در هر یک از لیوان‌ها یا قوری‌ها، مقدار مساوی آب داغ بریزید و با دماسنج دمای آنها را اندازه‌گیری کنید.
- هر ۵ دقیقه دمای آب درون ظرف‌ها را اندازه‌گیری کنید و نمودار دما را بر حسب زمان برای هر یک از ظرف‌ها رسم کنید. از این آزمایش چه نتیجه‌ای می‌گیرید؟

۱- دمابان (مصوب فرهنگستان)

فناوری و کاربرد



شکل ۱۱- سامانه خنک کننده خودرو
از گرم شدن بیش از حد موتور جلوگیری می‌کند.

موتور خودرو: اگر دمای خیلی از چیزها را کنترل نکنیم، ممکن است خراب شوند؛ مثلاً اگر دمای موتور خودرو خیلی بالا رود، موتور آسیب جدی می‌بیند و حتی ممکن است بسوزد. برای جلوگیری از این اتفاق، سامانه خنک کننده خودرو طراحی و ساخته شده است تا انرژی گرمایی موتور را به رادیاتور منتقل کند. رادیاتورها به صورت پهن و در نتیجه با سطح زیاد ساخته می‌شوند. این طراحی سبب از دست دادن گرما به صورت همرفت و تابش خواهد شد. علاوه بر این، خودروها پنکه (فن) خنک کننده نیز دارند. هنگامی که موتور داغ شود، پنکه‌ها روشن می‌شوند و سبب دور شدن هوای داغ اطراف رادیاتور می‌گردند.

کاهش اتلاف گرما در خانه: دمای مناسب برای داخل خانه یا محل‌های کار و مدرسه، بین 18°C تا 20°C است. در روزهای سرد اختلاف دمای درون خانه و بیرون بسیار زیاد می‌شود و این اختلاف دما سبب اتلاف گرمایی زیادی می‌شود و ممکن است هزینه زیادی را به خانواده تحمیل کند؛ به طوری که مجبور به پرداخت مبلغ کلانی برای قبض‌های برق و گاز شویم. برای جلوگیری از اتلاف گرمایی و سازگاری بیشتر با محیط‌زیست راه‌های مختلفی وجود دارد. شکل ۱۲ نشان می‌دهد که چطور می‌توان اتلاف گرما را در خانه کاهش داد و از هزینه‌های گرمایشی خانه کاست.

آیا می‌دانید

انرژی مصرفی یک خانواده برای پخت و پز در طول سال حدود ۵ تن گاز گلخانه‌ای را وارد جو می‌کند. برق مصرفی یک یخچال نیز در طول سال ۲ تن گاز گلخانه‌ای به محیط‌زیست اضافه می‌کند!



شکل ۱۲- روش‌های مختلف جلوگیری از اتلاف گرما در خانه



شکل ۱۳- فلاسک خلأ می‌تواند مدت نسبتاً زیادی دمای جسم را تقریباً ثابت نگه دارد.

فلاسک خلأ: اگر بخواهید به مسافرت یا تفریح بروید، نوشیدنی داغ مانند چای را چگونه گرم نگه می‌دارید؟ نوشیدنی خنک مانند آب‌میوه را چگونه خنک نگه می‌دارید؟ اگر این نوشیدنی‌ها را در محفظه‌ای قرار دهید و هر سه راه انتقال گرما به آن یا از آن به بیرون را ببندید، نوشیدنی داغ یا خنک می‌ماند. معمولاً این کار را فلاسک‌های خلأ انجام می‌دهند. شکل ۱۳ یک نوع از این فلاسک و اجزای تشکیل دهنده آن را نشان می‌دهد. اصلی‌ترین جزء فلاسک یک بطری شیشه‌ای دوجداره است که بین آن خلأ است و روی سطح آن، هم از درون و هم از بیرون نقره‌اندود است. در گروه خود درباره نقش هر قسمت از فلاسک خلأ بحث کنید.